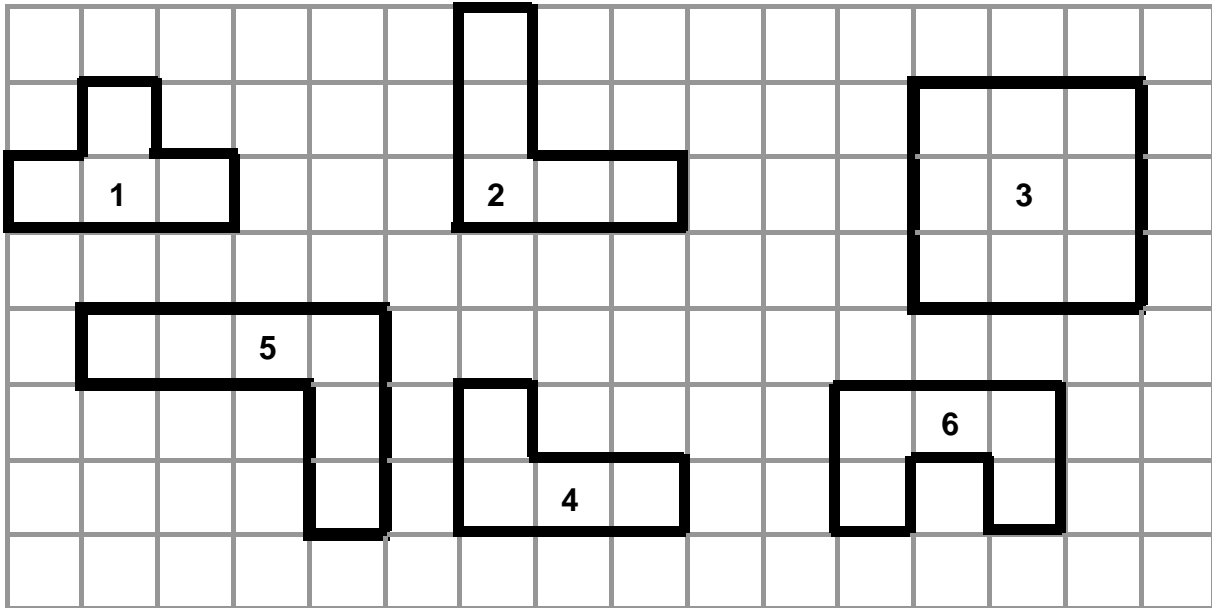



NOTION DE PÉRIMÈTRE

1) Colorie les figures qui ont le même périmètre.



2) L'âne Poitinou veut brouter toutes les fleurs qui entourent son pré. Le champ mesure 45 m de long et 23 m de large. Quelle distance doit parcourir Poitinou pour manger toutes les fleurs ?



Fais tes calculs dans ce cadre

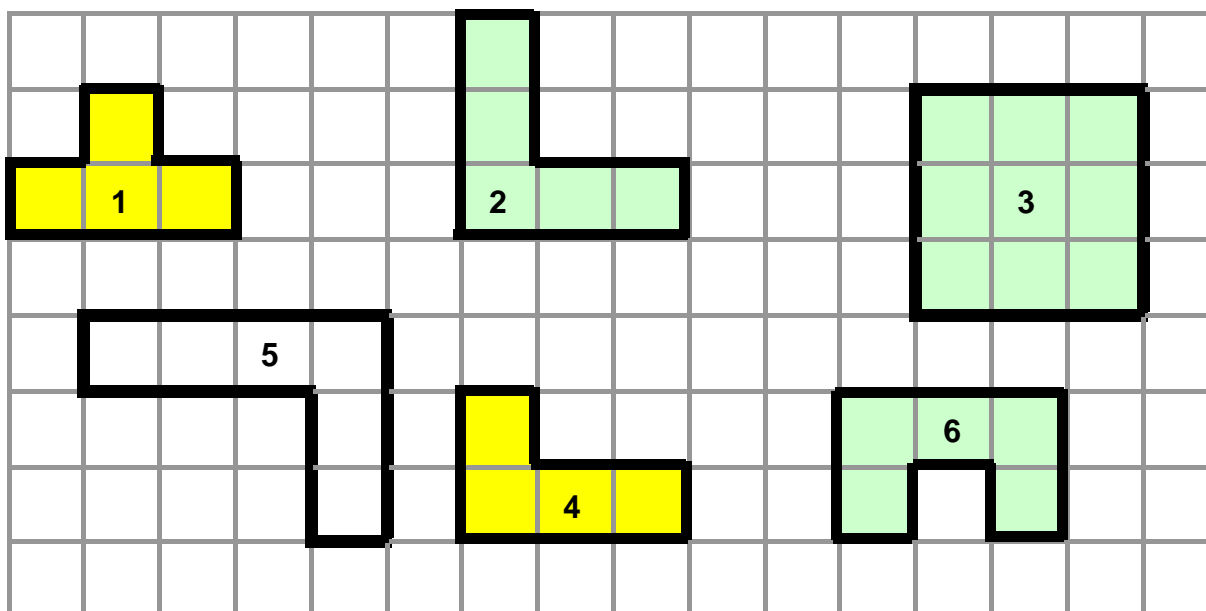
Réponse : Poitinou doit parcourir .....

3) Avec ton équerre, complète cette figure pour obtenir un rectangle de 20 cm de périmètre.




NOTION DE PÉRIMÈTRE  
**SOLUTION**

1) Colorie les figures qui ont le même périmètre.



2) L'âne Poitinou veut brouter toutes les fleurs qui entourent son pré. Le champ mesure 45 m de long et 23 m de large. Quelle distance doit parcourir Poitinou pour manger toutes les fleurs ?



Fais tes calculs dans ce cadre

|        |            |
|--------|------------|
| $45$   | $68$       |
| $+ 23$ | $\times 2$ |
| $68$   | $138$      |

Réponse : Poitinou doit parcourir **138 m**.

3) Avec ton équerre, complète cette figure pour obtenir un rectangle de 20 cm de périmètre.

