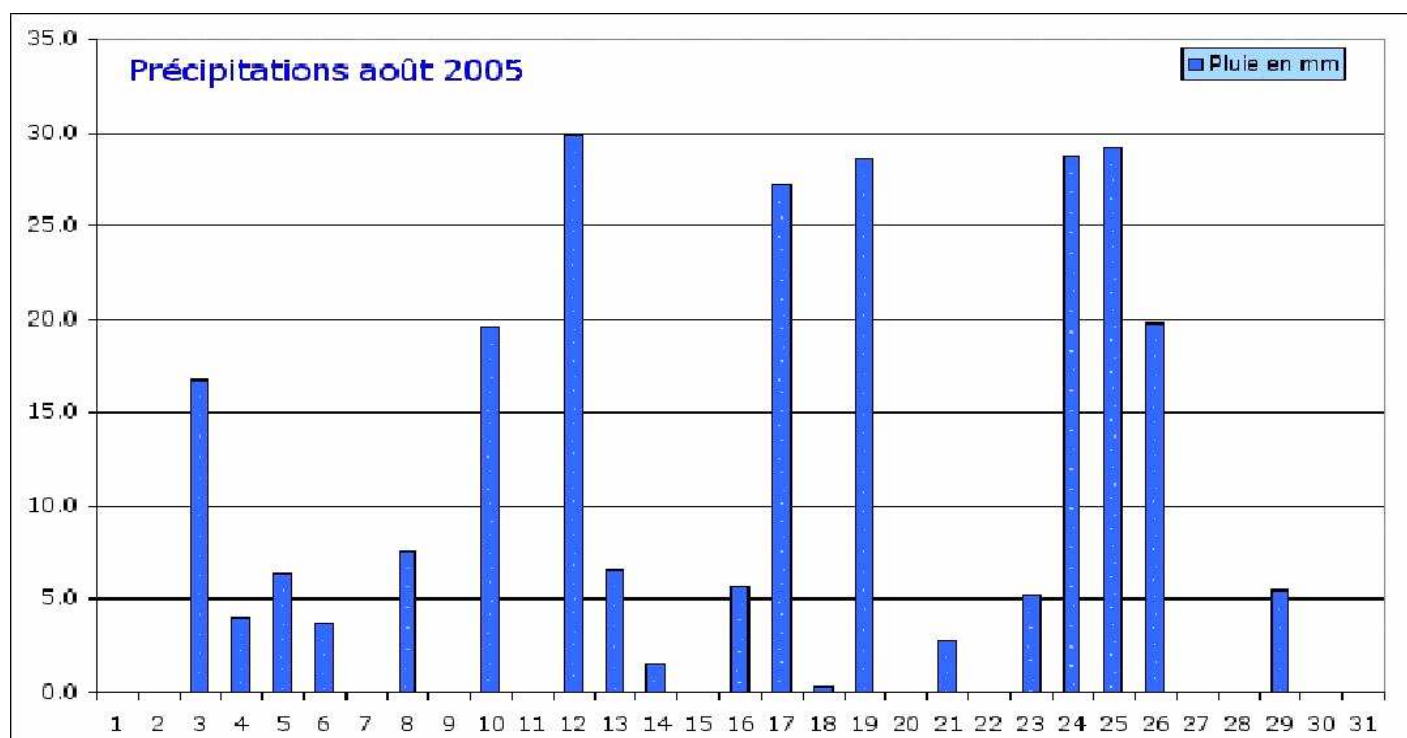


LES GRAPHIQUES ET LES TABLEAUX

Voici un graphique de précipitations et un tableau de température concernant une ville de France, pour le mois d'août 2005.



date	Temp. mini	Temp. maxi	Temp. moy	date	Temp. mini	Temp. maxi	Temp. moy
1	16,2	31,2	23,7	16	18,4	26,5	22,45
2	16,1	32,4	24,25	17	15,7	24,2	19,95
3	18,9	22,3	20,6	18	15	31,1	23,05
4	14,9	23	18,95	19	15,7	27,7	21,7
5	12	23,8	17,9	20	15,4	26,3	20,85
6	11,9	23,8	17,85	21	14,1	27,1	20,6
7	17,1	25,2	21,15	22	13,7	27,8	20,75
8	16,5	26	21,25	23	14,2	29,1	21,65
9	14,8	22,6	18,7	24	14,3	31,7	23
10	14,2	20,6	17,4	25	14,8	32,6	23,7
11	8,4	24,1	16,25	26	15,8	33,9	24,85
12	8,5	27,4	17,9	27	16	30,9	23,45
13	10	29,3	19,65	28	15,9	26	20,95
14	11,9	32,8	22,35	29	13,9	26,5	20,2
15	14,7	32,6	23,65	30	16,5	24,4	20,45
Relevé mois d'août 2005 en degrés				31	14,5	20,8	17,65

QUESTIONNAIRE GRAPHIQUES ET TABLEAUX

1) Que signifie le mot « précipitations » dans le graphique?

.....

2) Coche dans ce tableau les jours où il n'a pas plu dans cette ville.

<i>jours</i>	1	2	3	4	5	6	7	8	9	10	11	12	13	14	15	
	16	17	18	19	20	21	22	23	24	25	26	27	28	29	30	31

3) Quel jour a connu le plus de pluie en ce mois d'août ?

le 19 août le 12 août le 17 août le 24 août le 25 août



4) Quelle quantité de pluie est tombée le 26 août?

.....

5) Quel jour est-il tombé une épaisseur de pluie de 7,5 millimètres ?

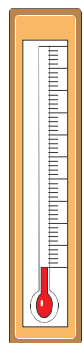
.....

6) Explique les étiquettes du tableau.

- ◆ Temp. mini →
- ◆ Temp. maxi →
- ◆ Temp. moy →

7) Relève les températures moyennes des jours suivants :

3 août : 15 août : 27 août :
12 août : 23 août : 30 août :



8) Quel jour a-t-on enregistré ?

- ◆ la température la plus basse →
- ◆ la température la plus élevée →

QUESTIONNAIRE GRAPHIQUES ET TABLEAUX

CORRECTION

1) Que signifie le mot « précipitations » dans le graphique?

Le mot « précipitations » signifie les pluies.

2) Coche dans ce tableau les jours où il n'a pas plu dans cette ville.

jours	1	2	3	4	5	6	7	8	9	10	11	12	13	14	15
16	17	18	19	20	21	22	23	24	25	26	27	28	29	30	31

3) Quel jour a connu le plus de pluie en ce mois d'août ?

le 19 août le 12 août le 17 août le 24 août le 25 août



4) Quelle quantité de pluie est tombée le 26 août?

Il est tombé 20 mm de pluie.

5) Quel jour est-il tombé une épaisseur de pluie de 7,5 millimètres ?

C'est le 8 août.

6) Explique les étiquettes du tableau.

- ◆ Temp. mini → **cela signifie : température minimale (la moins élevée)**
- ◆ Temp. maxi → **cela signifie : température maximale (la plus élevée)**
- ◆ Temp. moy → **cela signifie : température moyenne**

7) Relève les températures moyennes des jours suivants :

3 août : **20,6 °**

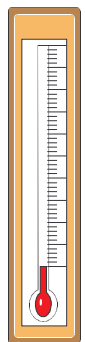
15 août : **23,65 °**

27 août : **23,45 °**

12 août : **17,9 °**

23 août : **21,65 °**

30 août : **20,45 °**



8) Quel jour a-t-on enregistré ?

- ◆ la température la plus basse → **C'est le 11 août avec 8,4 °.**
- ◆ la température la plus élevée → **C'est le 26 août avec 33,9 °.**