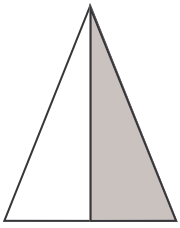
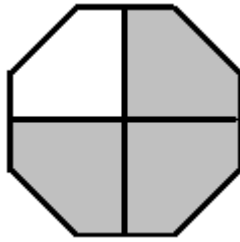


## LES FRACTIONS


**1) Écris en bleu la fraction représentant la partie colorée de chaque figure et en rouge la partie blanche. Réponds dans les petits carrés.**



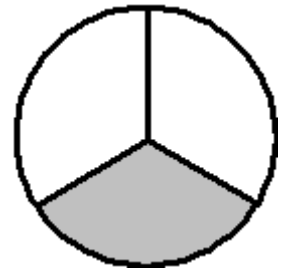
--	--



--	--




--	--



--	--

**2) Représente les fractions suivantes en coloriant chaque figure.**



$\frac{1}{4}$



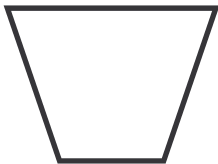
$\frac{1}{2}$



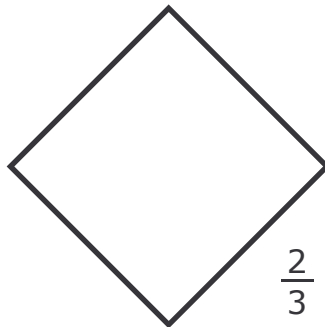
$\frac{1}{3}$



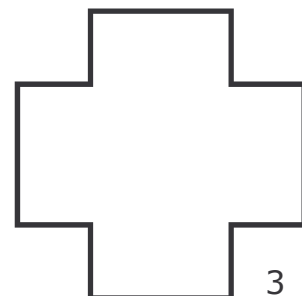
$\frac{2}{4}$



$\frac{1}{2}$



$\frac{2}{3}$



$\frac{3}{4}$

**3) Représente, comme le montre l'exemple, les fractions demandées.**

Exemple :  $\frac{3}{4} =$  

$\frac{1}{4} =$

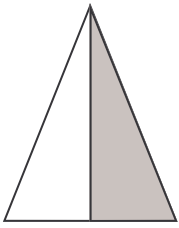
$\frac{2}{3} =$

$\frac{1}{2} =$

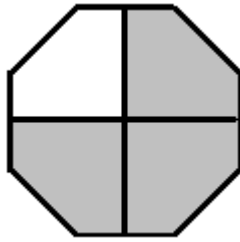
## LES FRACTIONS

### CORRECTION


1) Écris en bleu la fraction représentant la partie colorée de chaque figure et en rouge la partie blanche. Réponds dans les petits carrés.



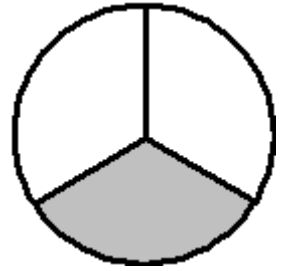
$\frac{1}{2}$	$\frac{1}{2}$
---------------	---------------



$\frac{3}{4}$	$\frac{1}{4}$
---------------	---------------



$\frac{2}{3}$	$\frac{1}{3}$
---------------	---------------



$\frac{1}{3}$	$\frac{2}{3}$
---------------	---------------

2) Représente les fractions suivantes en coloriant chaque figure.



$$\frac{1}{4}$$



$$\frac{1}{2}$$



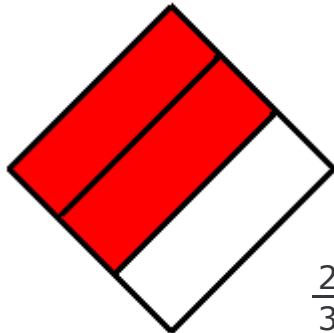
$$\frac{1}{3}$$




$$\frac{2}{4}$$



$$\frac{1}{2}$$



$$\frac{2}{3}$$



$$\frac{3}{4}$$

3) Représente, comme le montre l'exemple, les fractions demandées.

Exemple :  $\frac{3}{4} =$

$\frac{1}{4} =$

$\frac{2}{3} =$

$\frac{1}{2} =$