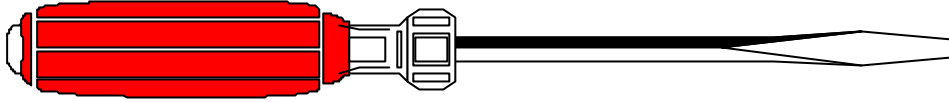


MESURER DES LONGUEURS

1) Entoure ce qui est vrai.



Le tournevis mesure

exactement 12 cm
exactement 13 cm
entre 12 et 13 cm

2) Complète le tableau en écrivant les noms des objets.






Quel crayon mesure entre 6 cm et 7 cm



Quel crayon mesure 4 cm exactement

Quel crayon mesure entre 4 cm et 5 cm

Quel crayon mesure 8 cm exactement

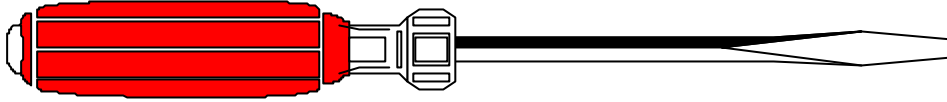
Quel crayon mesure entre 7 cm et 8 cm



MESURER DES LONGUEURS

1) Entoure ce qui est vrai.



Le tournevis mesure

exactement 12 cm
exactement 13 cm
entre 12 et 13 cm

2) Complète le tableau en écrivant les noms des objets.

Quel crayon mesure entre 6 cm et 7 cm

2

Quel crayon mesure 4 cm exactement

1

Quel crayon mesure entre 4 cm et 5 cm

5

Quel crayon mesure 8 cm exactement

4

Quel crayon mesure entre 7 cm et 8 cm

3

