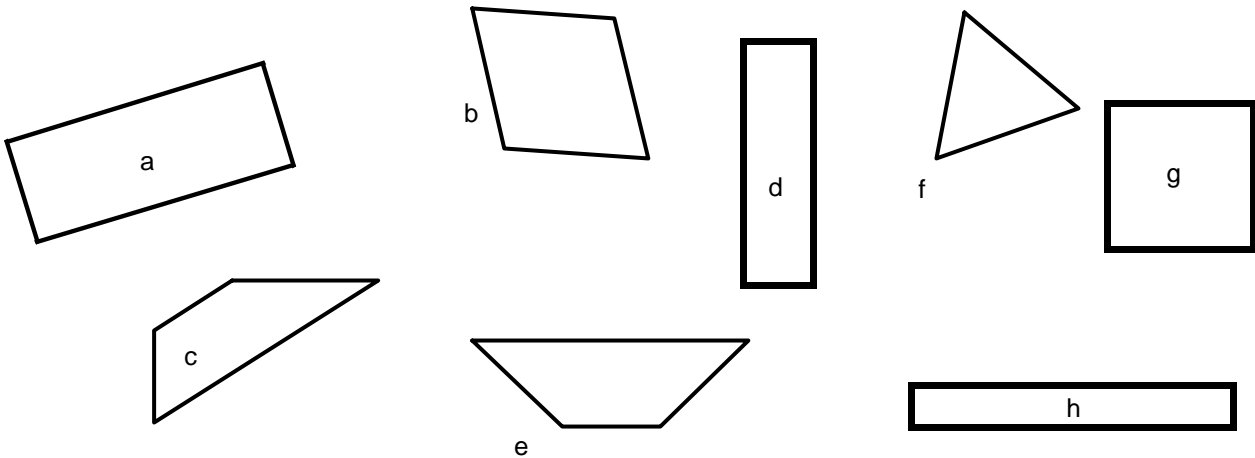
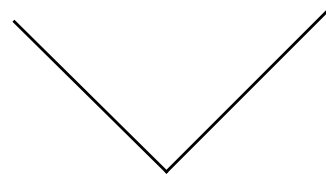
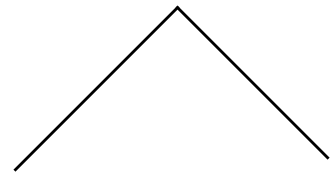


LE RECTANGLE

1) Observe bien ces figures et colorie les rectangles.



2) Complète chaque figure pour que ce soit un rectangle. Utilise ton équerre.

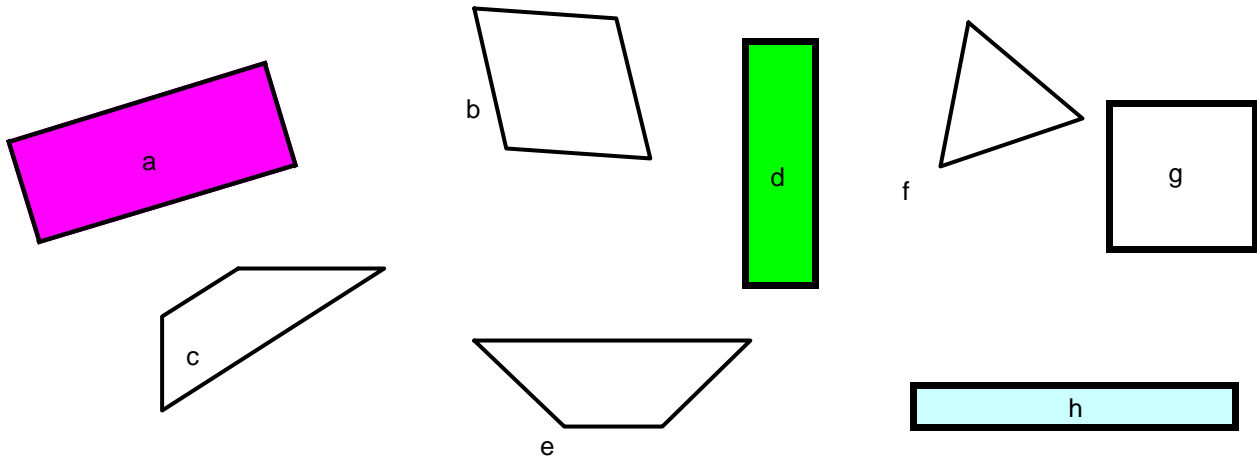


3) Écris vrai ou faux pour chaque affirmation.

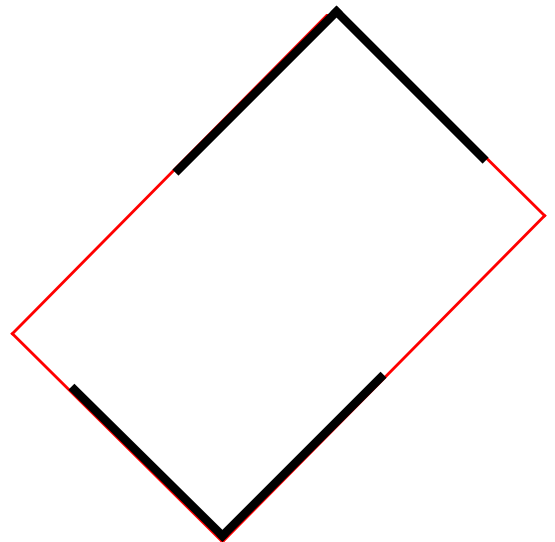
- Le rectangle possède 3 angles droits.
- Le rectangle est un quadrilatère.
- Les quatre côtés du rectangle sont égaux et parallèles 2 par 2.
- La moitié d'un rectangle est toujours un carré.
- On peut faire 2 triangles avec un rectangle.

LE RECTANGLE
SOLUTION

1) Observe bien ces figures et colorie les rectangles.



2) Complète chaque figure pour que ce soit un rectangle. Utilise ton équerre.



3) Écris vrai ou faux pour chaque affirmation.

- Le rectangle possède 3 angles droits. **FAUX**
- Le rectangle est un quadrilatère. **VRAI**
- Les quatre côtés du rectangle sont égaux et parallèles 2 par 2. **VRAI**
- La moitié d'un rectangle est toujours un carré. **FAUX**
- On peut faire 2 triangles avec un rectangle. **VRAI**