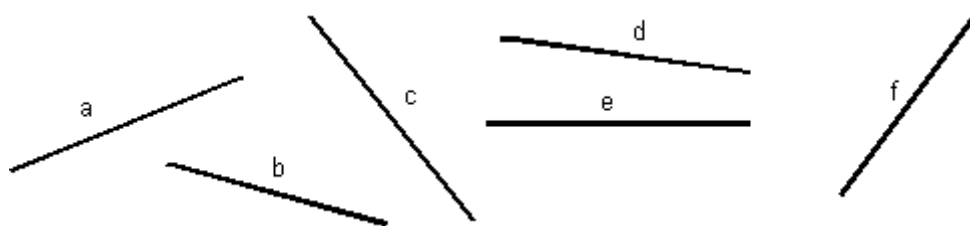


LE CERCLE

- Utilise ton compas pour trouver les segments qui ont la même longueur

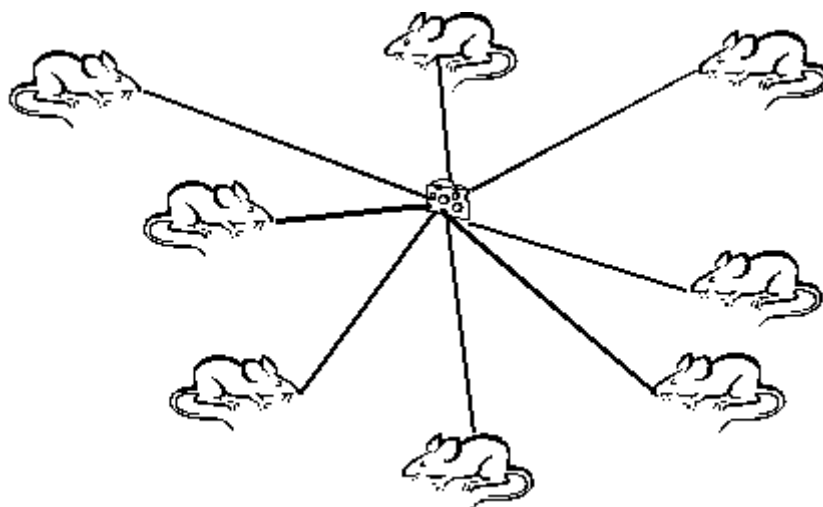


Les segments et ont la même longueur.

Les segments et ont la même longueur.

Les segments et ont la même longueur.

- Utilise ton compas pour répondre aux questions.



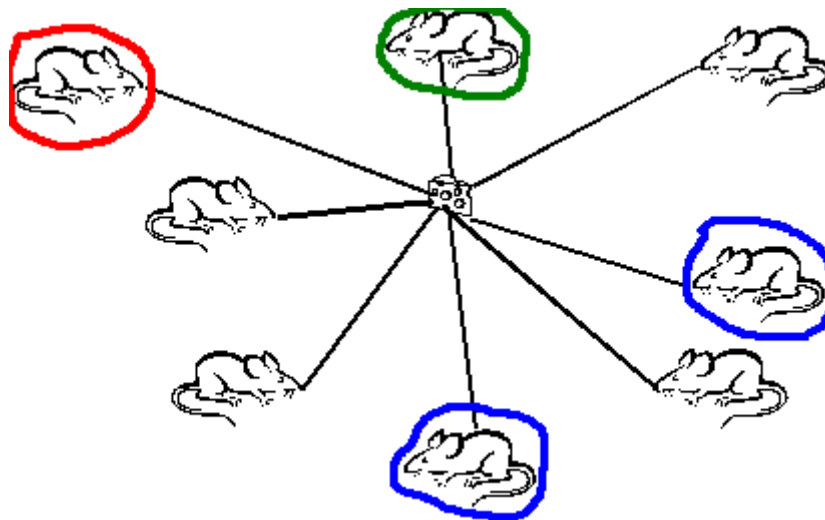
Entoure en rouge la souris la plus éloignée du fromage.

Entoure en vert la souris la plus proche du fromage.

Entoure en bleu les souris qui sont à la même distance du fromage.

LE CERCLE

- Les segments **a** et **d** ont la même longueur.
Les segments **c** et **e** ont la même longueur.
Les segments **b** et **f** ont la même longueur.
- Utilise ton compas pour répondre aux questions.



Entoure en rouge la souris la plus éloignée du fromage.

Entoure en vert la souris la plus proche du fromage.

Entoure en bleu les souris qui sont à la même distance du fromage.