

MESURES DE LONGUEUR

1) Mesure chaque segment.

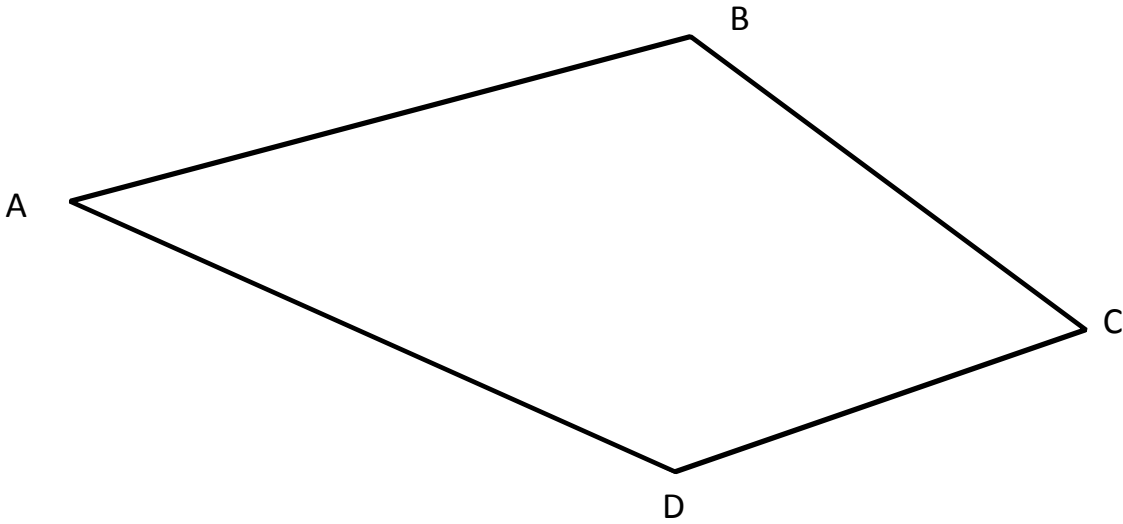
_____ = cm

_____ = cm

_____ = cm

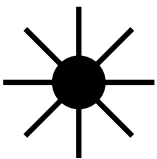
_____ = cm

2) Écris la mesure de chaque segment de ce polygone.



Segment	AB	BC	CD	AD
Mesure				

3) Reproduis ce dessin avec des traits de 4 cm.



MESURES DE LONGUEUR

1) Mesure chaque segment.

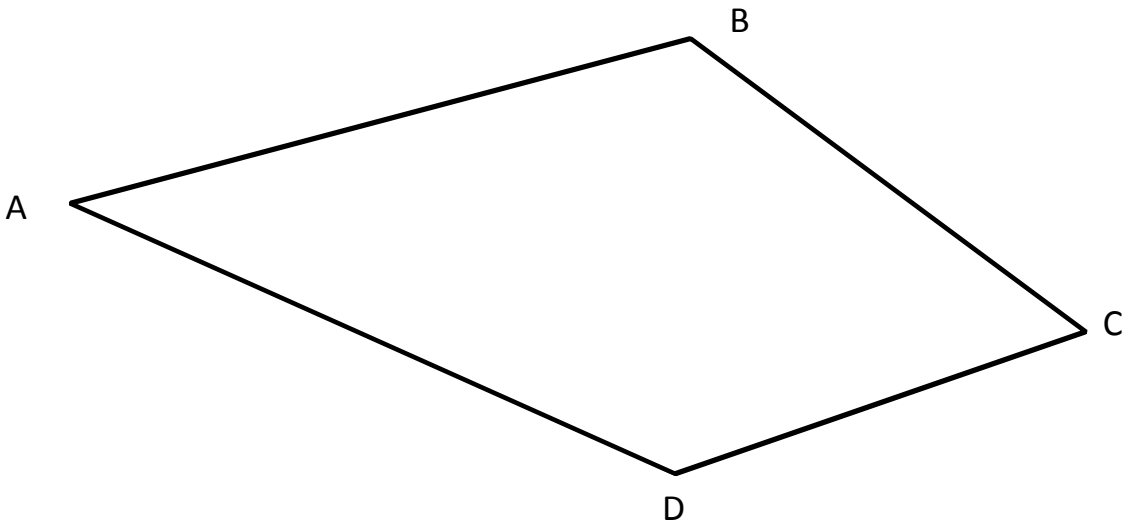
 = 6 cm

 = 10 cm

 = 15 cm

 = 8,5 cm

2) Écris la mesure de chaque segment de ce polygone.



Segment	AB	BC	CD	AD
Mesure	8,5 cm	6,5 cm	5,7 cm	8,8 cm

3) Reproduis ce dessin avec des traits de 4 cm.

