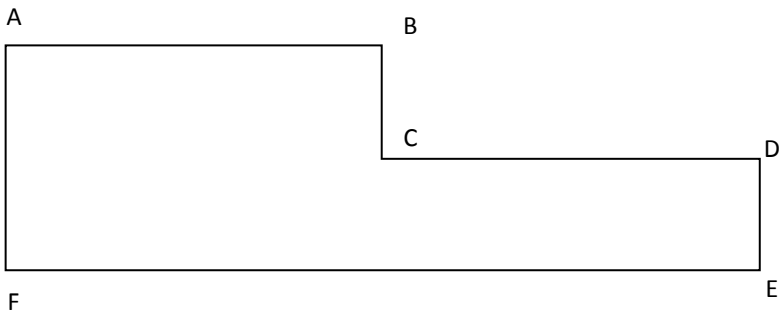


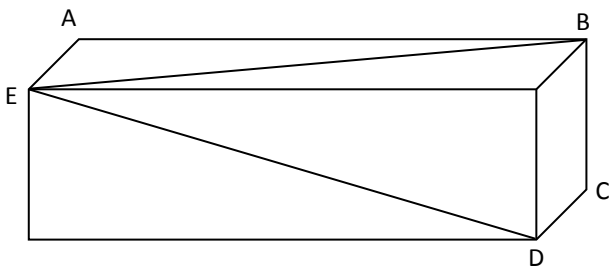
## MESURES DE LONGUEUR

- **Mesure chaque segment de cette figure et écris tes réponses dans le tableau.**



segment	mesure en cm
AB	
BC	
CD	
DE	
EF	
AF	

- **Même exercice.**



segment	mesure en cm
AB	
BC	
CD	
DE	
EB	

- **3) Trace les segments dont la mesure est indiquée dans le tableau.**

segment	mesure
AB	4 cm
CD	6 cm 5 mm
EF	8 cm
GH	5 cm 8 mm
IJ	2,4 cm
KL	9,6 cm

AB → |

CD → |

EF → |

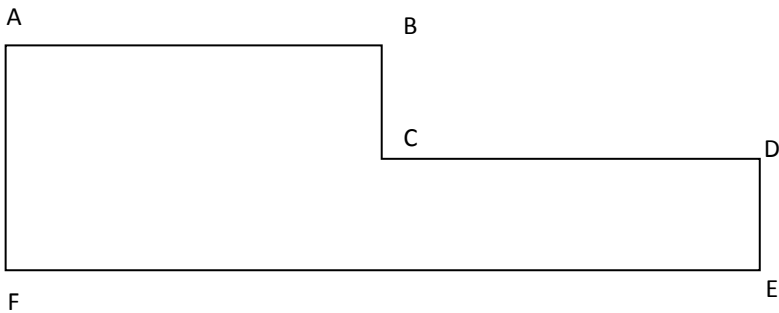
GH → |

IJ → |

KL → |

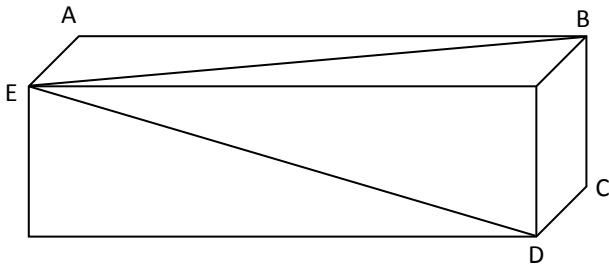
## MESURES DE LONGUEUR

- Mesure chaque segment de cette figure et écris tes réponses dans le tableau.



segment	mesure en cm
AB	5
BC	1,5
CD	5
DE	1,5
EF	10
AF	3

- Même exercice.



segment	mesure en cm
AB	6,7
BC	2
CD	1
DE	7
EB	7,4

- 3) Trace les segments dont la mesure est indiquée dans le tableau.

segment	mesure
AB	4 cm
CD	6 cm 5 mm
EF	8 cm
GH	5 cm 8 mm
IJ	2,4 cm
KL	9,6 cm

AB →

CD →

EF →

GH →

IJ →

KL →