
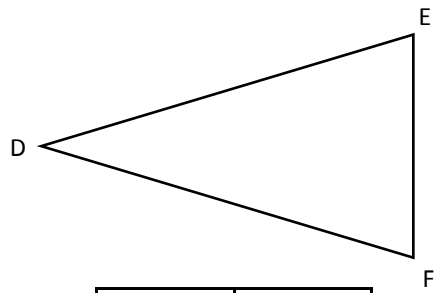


## MESURES DE LONGUEUR

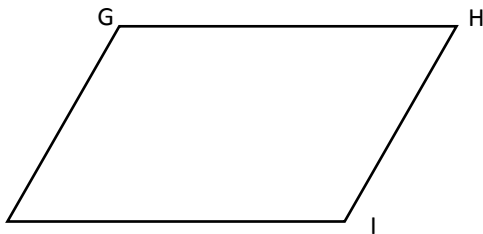
- Mesure chaque segment de ces figures et écris tes réponses dans le tableau.**



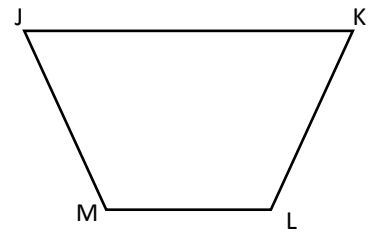
segment	mesure
AB	
BC	



segment	mesure
DE	
EF	
FD	



segment	mesure
GH	
HI	



segment	mesure
JK	
KL	
LM	

- Trace les segments dont la mesure est indiquée dans le tableau.**

AB •

BC •

CD •

DE •

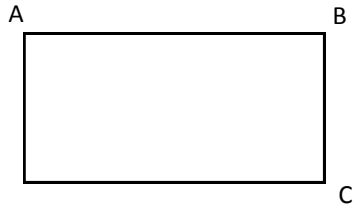
EF •

FG •

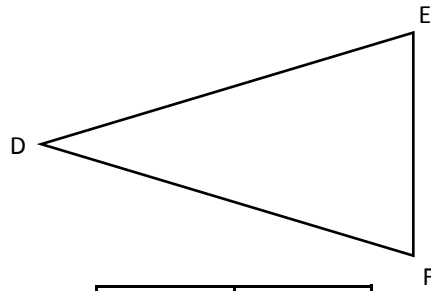
segment	mesure
AB	4 cm
BC	6 cm
CD	8 cm
DE	5 cm 5 mm
EF	2,5 cm
FG	9,6 cm

## MESURES DE LONGUEUR

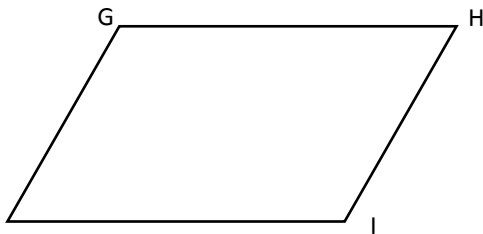
- Mesure chaque segment de ces figures et écris tes réponses dans le tableau.



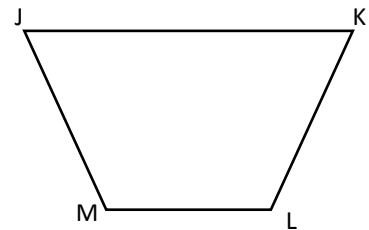
segment	mesure
AB	<b>4 cm</b>
BC	<b>2 cm</b>



segment	mesure
DE	<b>5,2 cm</b>
EF	<b>3 cm</b>
FD	<b>5,2 cm</b>



segment	mesure
GH	<b>4,5 cm</b>
HI	<b>3 cm</b>



segment	mesure
JK	<b>4,4 cm</b>
KL	<b>2,6 cm</b>
LM	<b>2,2 cm</b>

- Trace les segments dont la mesure est indiquée dans le tableau.

AB

BC

CD

DE

EF

FG

segment	mesure
AB	4 cm
BC	6 cm
CD	8 cm
DE	5 cm 5 mm
EF	2,5 cm
FG	9,6 cm