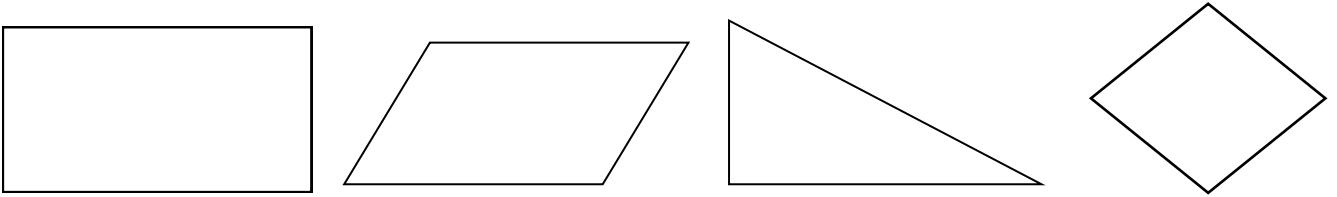
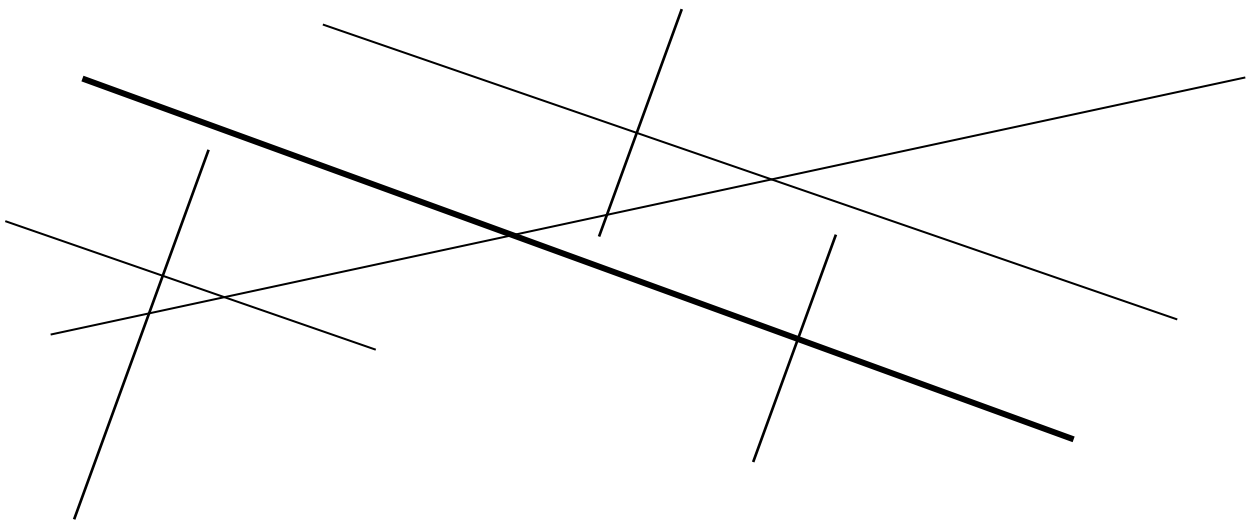


PARALLÈLES ET PERPENDICULAIRES

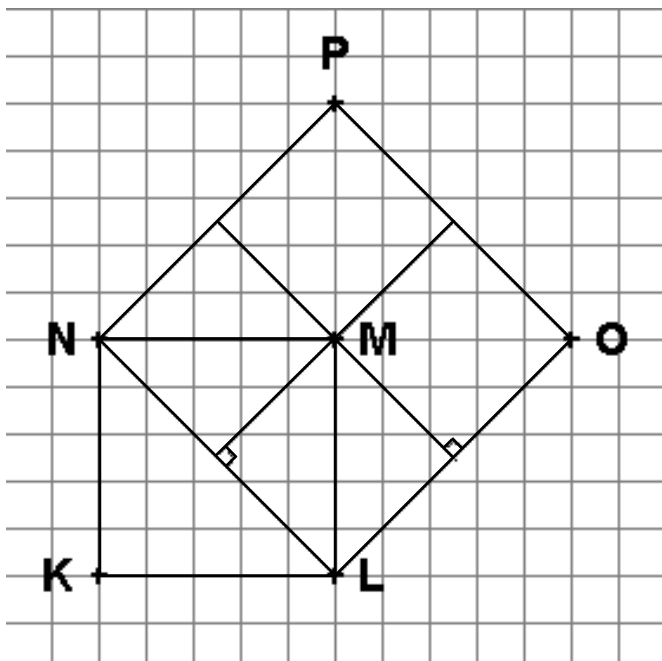
- Marque d'un petit carré les angles droits des figures. Sers-toi de l'équerre.



- Colorie en vert les droites perpendiculaires à la droite en gras et en jaune celles qui lui sont parallèles.



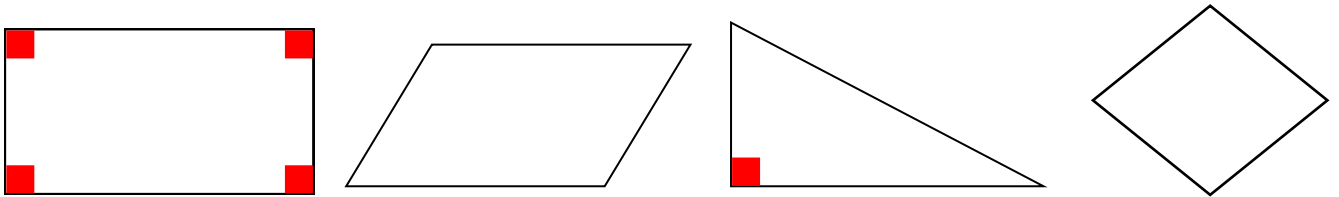
- Observe la figure ci-dessous et remplir le tableau situé à droite en utilisant le signe // quand les segments sont parallèles et le signe \perp quand les droites sont perpendiculaires.



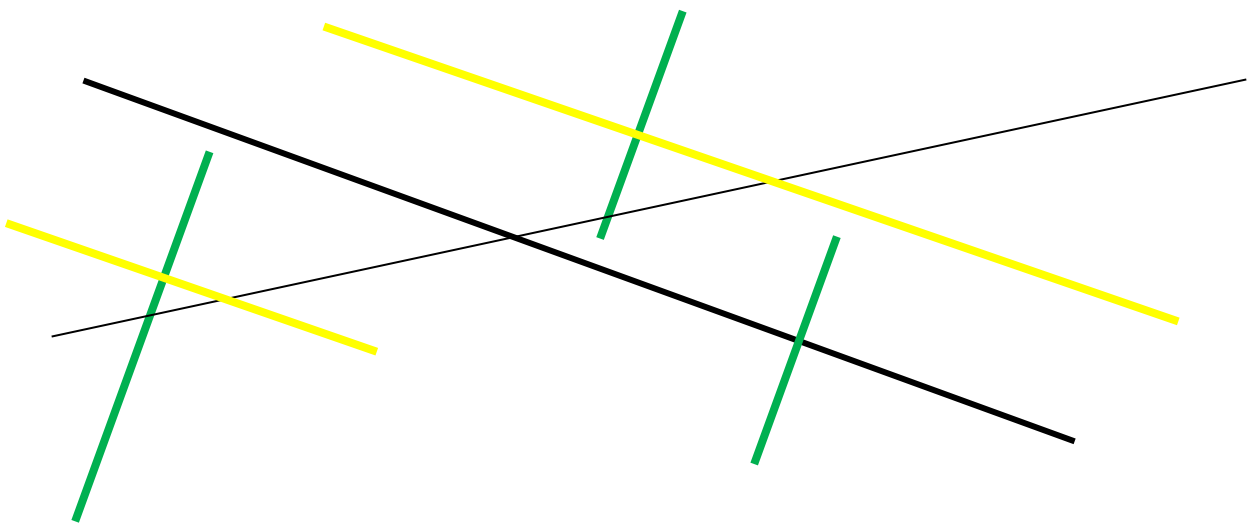
	NP	PO	OL	LN	NM	NR
NP						
PO						
OL						
LN						
NM						
NR						

PARALLÈLES ET PERPENDICULAIRES

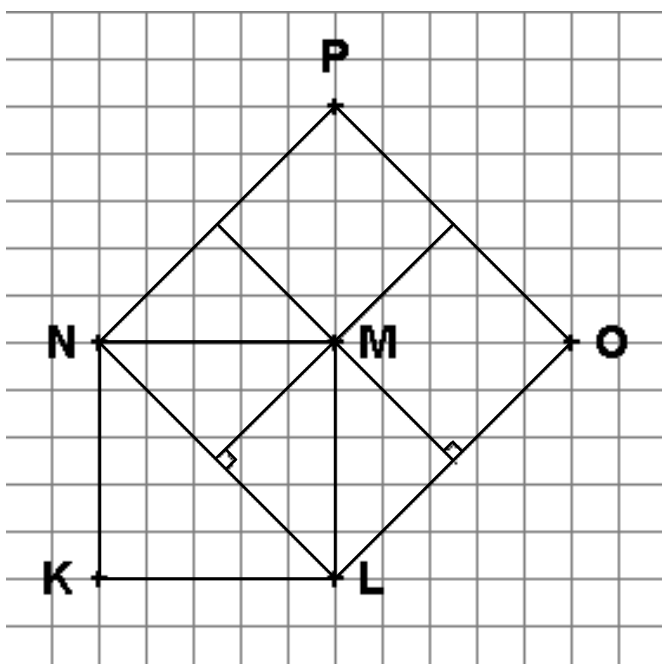
- Marque d'un petit carré les angles droits des figures. Sers-toi de l'équerre.



- Colorie en vert les droites perpendiculaires à la droite en gras et en jaune celles qui lui sont parallèles.



- Observe la figure ci-dessous et remplir le tableau situé à droite en utilisant le signe // quand les segments sont parallèles et le signe \perp quand les droites sont perpendiculaires.



	NP	PO	OL	LN	NM	KL
NP	//	\perp	//	\perp		
PO	\perp	//	\perp	//		
OL	//	\perp	//	\perp		
LN	\perp	//	\perp	//		
NM					//	//
KL					//	//