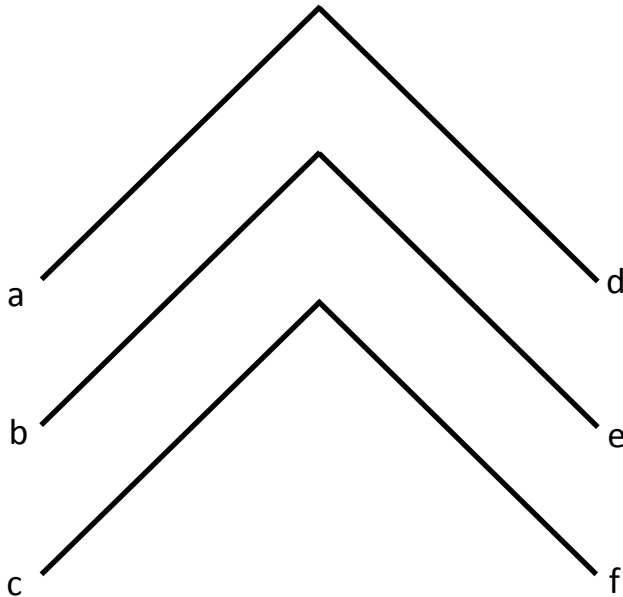


PARALLÈLES ET PERPENDICULAIRES

- Observe la figure ci-dessous et remplis le tableau situé à droite.

// : pour indiquer que les droites sont parallèles.

⊥ : pour indiquer que les droites sont perpendiculaires




	a	b	c	d	e	f
a						
b						
c						
d						
e						
f						

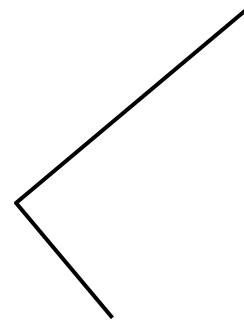
- Complète chaque figure avec ton équerre.



un rectangle



un carré



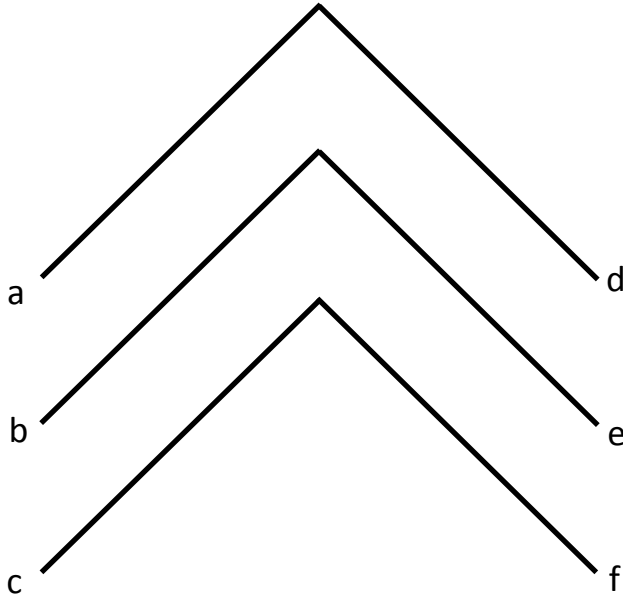
un rectangle

PARALLÈLES ET PERPENDICULAIRES

- Observe la figure ci-dessous et remplis le tableau situé à droite.


// : pour indiquer que les droites sont parallèles.

⊥ : pour indiquer que les droites sont perpendiculaires




	a	b	c	d	e	f
a	//	//	//	⊥	⊥	⊥
b	//	//	//	⊥	⊥	⊥
c	//	//	//	⊥	⊥	⊥
d	⊥	⊥	⊥	//	//	//
e	⊥	⊥	⊥	//	//	//
f	⊥	⊥	⊥	//	//	//

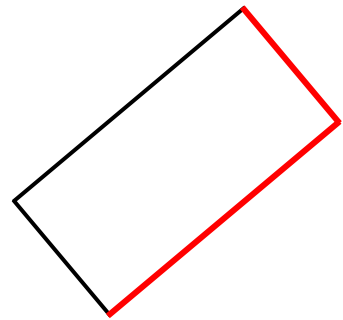
- Complète chaque figure avec ton équerre.



un rectangle



un carré



un rectangle