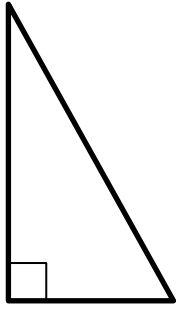
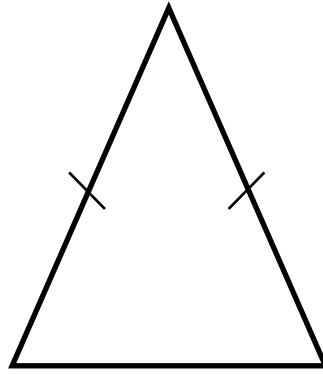


## LES TRIANGLES

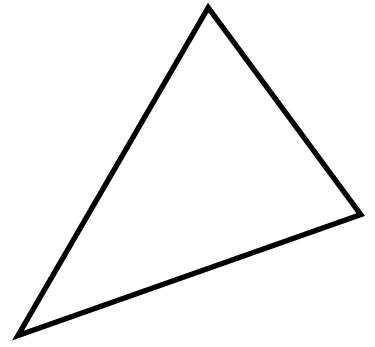
- Trouve le nom de chaque triangle.



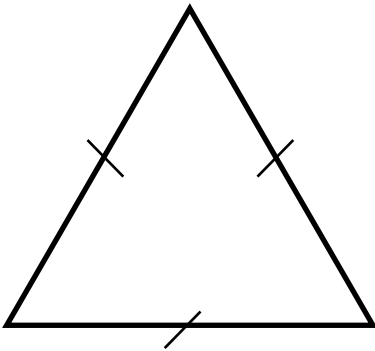
Un triangle .....



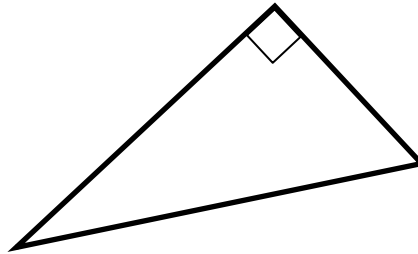
Un triangle .....



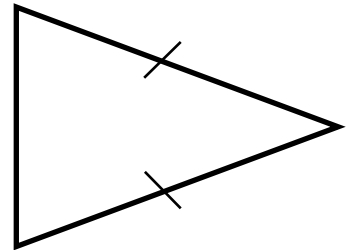
Un triangle .....



Un triangle .....



Un triangle .....



Un triangle .....

- Relie le nom de chaque triangle avec sa particularité.

**Triangle isocèle**

- • possède un angle droit.

**Triangle rectangle**

- • possède 3 côtés égaux.

**Triangle équilatéral**

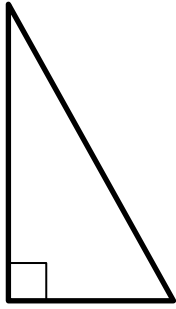
- • n'a aucune particularité

**Triangle quelconque**

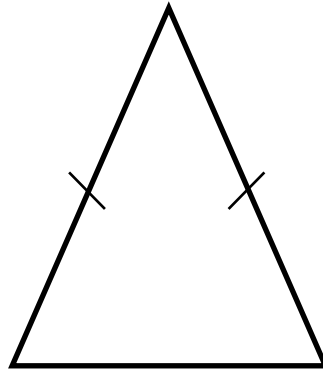
- • possède 2 côtés égaux.

## LES TRIANGLES

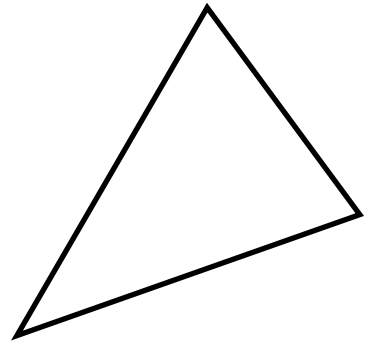
- Trouve le nom de chaque triangle.



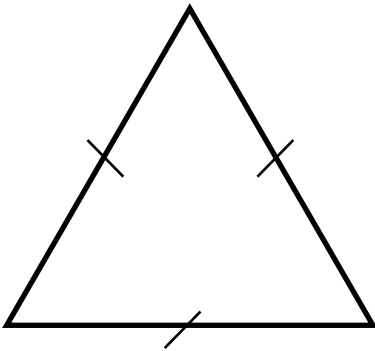
Un triangle **rectangle**



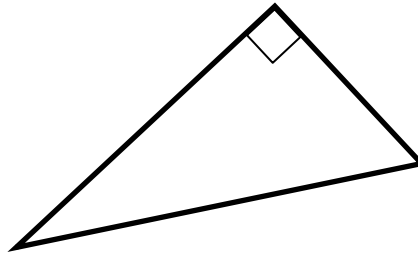
Un triangle **isocèle**



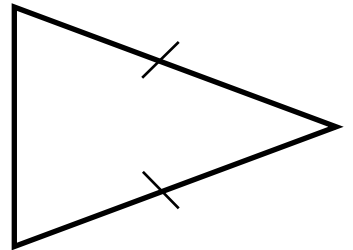
Un triangle **quelconque**



Un triangle **équilatéral**



Un triangle **rectangle**



Un triangle **isocèle**

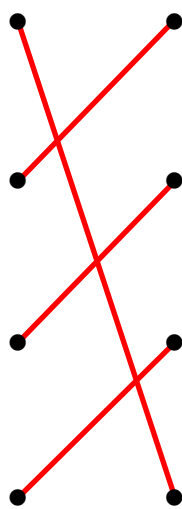
- Relie le nom de chaque triangle avec sa particularité.

Triangle isocèle

Triangle rectangle

Triangle équilatéral

Triangle quelconque



possède un angle droit.

possède 3 côtés égaux.

n'a aucune particularité

possède 2 côtés égaux.