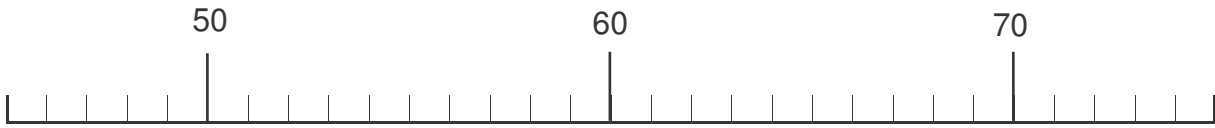
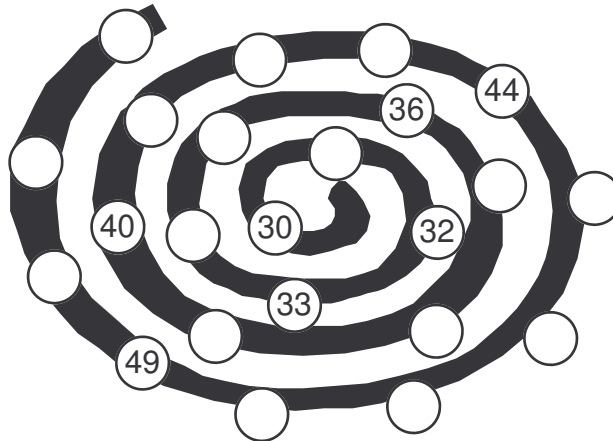


ORDRE DES NOMBRES

1) Écris les nombres suivants sur la droite numérique : 49 - 74 - 68 - 59



2) Écris les nombres qui manquent dans le nuage.



3) Complète chaque série.

- 30, 32, 34, , , , , , , 50
- 50, 45, 40, , , , , , , 0
- 17, 20, 23, , , , , , , 47

4) Écris les nombres qui manquent. (Il y a plein de solutions mais ne dépasse pas 100 !)

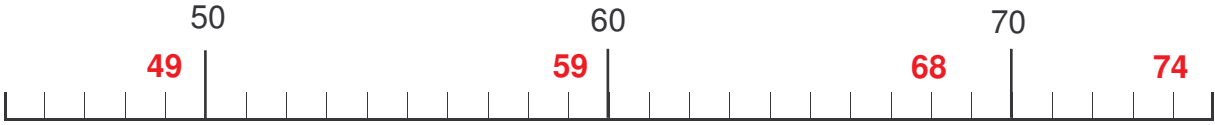
21	<		25	<	
45	>			>	84
	>	32		>	57
41	<		15	<	
	<	12	93	>	

5) Mets le signe qui convient : <, = ou >.

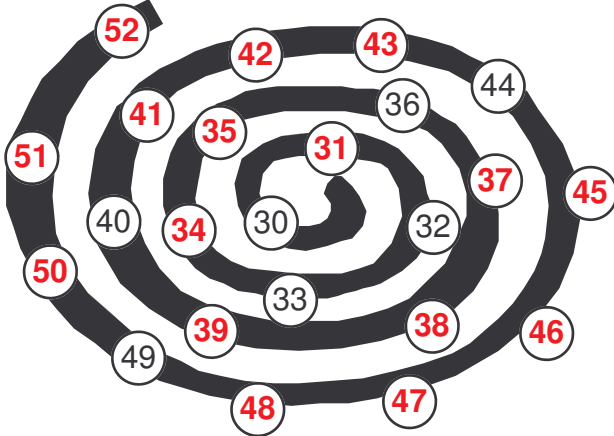
- | | | | | | | | | | | |
|----|---|----|-------|----|-------|----|---|----|---|----|
| 20 | + | 3 | | 20 | + | 8 | | | | |
| 40 | + | 8 | | 30 | + | 8 | | | | |
| 10 | + | 10 | + | 5 | | 10 | + | 10 | + | 1 |
| 10 | + | 6 | + | 10 | | 6 | + | 10 | + | 10 |
| 3 | + | 7 | + | 10 | | 2 | + | 8 | + | 10 |

ORDRE DES NOMBRES
SOLUTION

1) Écris les nombres suivants sur la droite numérique : 49 - 74 - 68 - 59



2) Écris les nombres qui manquent dans le nuage.



3) Complète chaque série.

- 30, 32, 34, **36**, **38**, 40, 42, 44, 46, 48, 50
- 50, 45, 40, **35**, **30**, 25, 20, 15, 10, 5, 0
- 17, 20, 23, **26**, **29**, 32, 35, 38, 41, 44, 47

4) Écris les nombres qui manquent. (Il y a plein de solutions mais ne dépasse pas 100 !)

21	<	22, 23, 24, 25,...	25	<	26, 27, 28, 29,...
45	>	44, 43, 42, 41, ...	85, 86, 87, 88, ...	>	84
33, 34, 35, 36, ...	>	32	58, 59, 60, 61, ...	>	57
41	<	42, 43, 44, 45, ...	15	<	16, 17, 18, 19, ...
11, 10, 9, 8, ...	<	12	93	>	92, 91, 90, 89, ...

5) Mets le signe qui convient : <, = ou >.

- 20 + 3 **<** 20 + 8
- 40 + 8 **>** 30 + 8
- 10 + 10 + 5 **>** 10 + 10 + 1
- 10 + 6 + 10 **=** 6 + 10 + 10
- 3 + 7 + 10 **=** 2 + 8 + 10